




KHỞI ĐỘNG





**Tớ
là
ai?**

Đồng hồ treo tường

**Tớ
là
ai?**



Đồng hồ báo thức





**Tớ
là
ai?**

Đồng hồ điện tử



Tớ
là
ai?



Đồng hồ điện tử



Thứ Hai ngày 1 tháng 4 năm 2024

Toán


BÀI 66:

XEM ĐỒNG HỒ - THÁNG - NĂM

Yêu cầu cần đạt



Đọc được giờ chính xác đến 5 phút và từng phút trên đồng hồ.






KHÁM PHÁ



Quan sát đồng hồ





Mỗi giờ có 60 phút. Mỗi phần được đánh dấu đỏ tương ứng với 1 phút. Trên mặt đồng hồ có 60 phần.



5 giờ 43 phút



3 giờ 5 phút

Hoạt động



1 SỐ

THẢO LUẬN NHÓM ĐÔI



(1 bạn chỉ vào tranh, bạn còn lại nói giờ)

a)



Nam học Toán
lúc giờ phút sáng.

b)



Mai học Âm nhạc
lúc giờ phút sáng.

d)



Rô-bốt học Mỹ thuật
lúc giờ phút chiều.



Việt học Giáo dục thể chất
lúc giờ phút chiều.

a)



Nam học Toán


lúc **7** giờ **25** phút sáng.

o)



Mai học Âm nhạc
lúc **10** giờ **10** phút sáng.

c)



Rô-bốt học Mĩ thuật
lúc **2** giờ **33** phút chiều.

d)



Việt học Giáo dục thể chất
lúc **3** giờ **42** phút chiều.

2


Hai đồng hồ nào chỉ cùng thời gian vào buổi chiều?



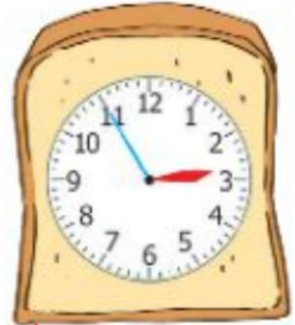
A



B



C



D



E



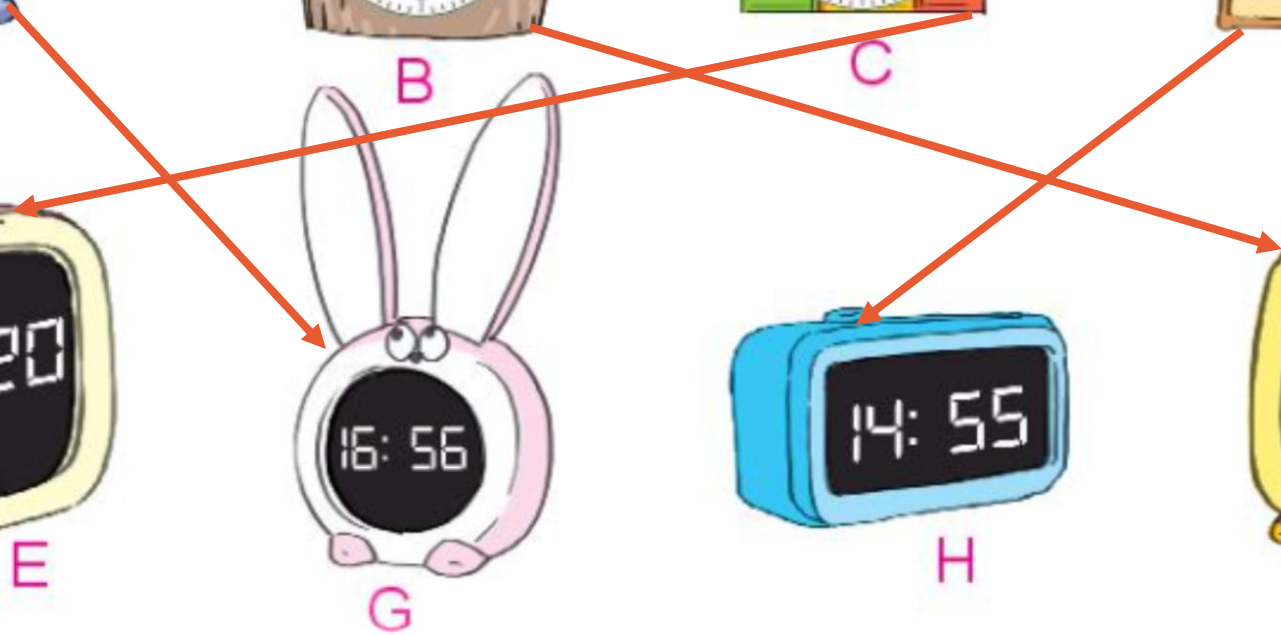
G



H



K



3

Chọn đồng hồ thích hợp với mỗi bức tranh:



Mai cùng mẹ làm bánh lúc:



A.



B.



Mi cùng bố hút bụi lúc:



A.



B.

4 Số

Mẫu: $1 \text{ giờ} + 2 \text{ giờ} = 3 \text{ giờ}$
 $10 \text{ phút} \times 3 = 30 \text{ phút}$

$30 \text{ phút} - 10 \text{ phút} = 20 \text{ phút}$
 $8 \text{ giờ} : 4 = 2 \text{ giờ}$

a) $10 \text{ phút} + 25 \text{ phút} = 35 \text{ phút}$

b) $24 \text{ giờ} - 8 \text{ giờ} = 16 \text{ giờ}$

c) $24 \text{ giờ} \times 2 = 48 \text{ giờ}$

d) $60 \text{ phút} : 6 = 10 \text{ phút}$

DẶN DÒ



GV ĐIỀN VÀO ĐÂY



GV ĐIỀN VÀO ĐÂY



GV ĐIỀN VÀO ĐÂY



GV ĐIỀN VÀO ĐÂY





Tạm biệt và
hẹn gặp lại